











Welcher Betrag ist dargestellt? Fülle die Tabelle aus.

								Betrag
	1			1			1	
		1			1			
			2		1	2		
	1			3		4		
1	1	1	1					
	1	2			2		3	
	2		4	1				
2		2	3		1	5		
		3	4	3			2	
1	1	1	1	1	1	1	1	
3		2			2	1		
	2			1			2	
4		3		2	3	1	2	
1	2			2		1	4	
3	4			1	4			