










Die gezeigte Lösung ist nur eine Variante – du kannst die Aufgabe auch anders lösen. Wichtig ist dabei nur, dass dein Ergebnis am Ende dem unserer Lösung entspricht.



Wie kannst du den Betrag bezahlen? Benutze dabei so wenig Scheine wie möglich. Fülle die Tabelle aus.

Beispiel: 130 € =  +  + 

							Betrag
		1		1	1		130 €
		1	1	1	1	1	185 €
		1	1	1	1		180 €
	1			1		1	225 €
1		1	1	1	1	1	685 €
	1	1		2			340 €
1	1		1	1		1	775 €
			1	1	1	1	85 €
1	1	1				1	805 €
1			1	2		1	595 €
1	2		1	1		1	975 €
1	1	1	1	1	1	1	885 €
2			1		1		1.060 €
	1	1	1	2			390 €
3			1	2		1	1.595 €