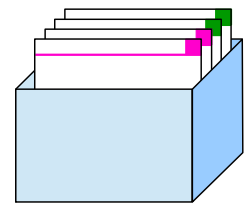


Das kleine Einmaleins ist eine Zusammenstellung aller Produkte, die sich aus der Kombination zweier natürlicher Zahlen (1 bis 10) ergeben. Es gehört zum arithmetischen Grundwissen und wird beispielsweise beim schriftlichen Multiplizieren verwendet. Daher wird es schon in der Grundschule gelehrt und du solltest es auswendig können.

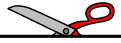


Bastel dir jetzt dein eigenes Einmaleins-Karten-Lernsystem! Du findest weitere Einmaleins-Karten zu vielen Reihen sowie den passenden Einmaleins-Karten-Kasten in unserer Bastecke.

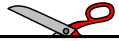
So wird gebastelt:	So sieht's aus:
<p>1. Schneide die Einmaleins-Karten an der durchgehenden Linie aus.</p>	
<p>2. Knicke die einzelnen Einmaleins-Karten an der gestrichelten Linie nach hinten um.</p>	
<p>3. Klebe die einzelnen Einmaleins-Kartenhälften zusammen.</p>	
<p>4. Sortiere die neuen Einmaleins-Karten in deinen Einmaleins-Kasten ein.</p>	

Viel Spaß beim Basteln deines eigenen Einmaleins-Lernsystems!





<p>Lösung</p> <p>2</p> <p>Die 2er-Reihe</p>	<p>Lösung</p> <p>6</p> <p>Die 2er-Reihe</p>	<p>Lösung</p> <p>10</p> <p>Die 2er-Reihe</p>
<p>Lösung</p> <p>2</p> <p>Die 2er-Reihe</p>	<p>Lösung</p> <p>4</p> <p>Die 2er-Reihe</p>	<p>Lösung</p> <p>8</p> <p>Die 2er-Reihe</p>
<p>Lösung</p> <p>2</p> <p>Die 2er-Reihe</p>	<p>Lösung</p> <p>4</p> <p>Die 2er-Reihe</p>	<p>Lösung</p> <p>8</p> <p>Die 2er-Reihe</p>
<p>Lösung</p> <p>1</p> <p>Die 2er-Reihe</p>	<p>Lösung</p> <p>0</p> <p>Die 2er-Reihe</p>	<p>Lösung</p> <p>0</p> <p>Die 2er-Reihe</p>
<p>Lösung</p> <p>3</p> <p>Die 2er-Reihe</p>	<p>Lösung</p> <p>4</p> <p>Die 2er-Reihe</p>	<p>Lösung</p> <p>2</p> <p>Die 2er-Reihe</p>
<p>Lösung</p> <p>5</p> <p>Die 2er-Reihe</p>	<p>Lösung</p> <p>8</p> <p>Die 2er-Reihe</p>	<p>Lösung</p> <p>4</p> <p>Die 2er-Reihe</p>



Lösung

14

Die 2er-Reihe

$$7 \cdot 2 =$$

Einmaleins-Karten (2er-Reihe)

mathetreff-online

Lösung

18

Die 2er-Reihe

$$9 \cdot 2 =$$

Einmaleins-Karten (2er-Reihe)

mathetreff-online

Lösung

12

Die 2er-Reihe

$$6 \cdot 2 =$$

Einmaleins-Karten (2er-Reihe)

mathetreff-online

Lösung

16

Die 2er-Reihe

$$8 \cdot 2 =$$

Einmaleins-Karten (2er-Reihe)

mathetreff-online

Lösung

20

Die 2er-Reihe

$$10 \cdot 2 =$$

Einmaleins-Karten (2er-Reihe)

mathetreff-online