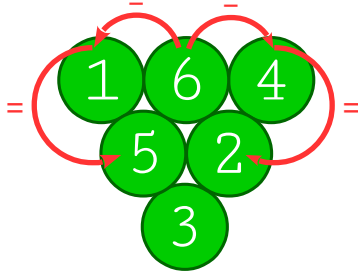
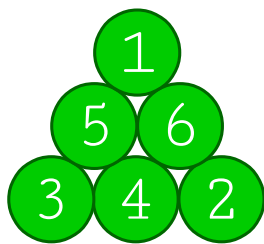


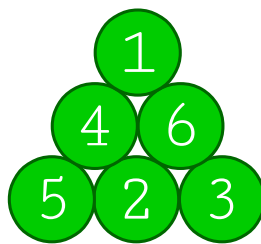
1. Ordne die Zahlen links so in das Dreieck, dass die Zahl in einem Kreis genau identisch ist mit der Differenz der Zahlen in den beiden oberhalb liegenden Kreisen.



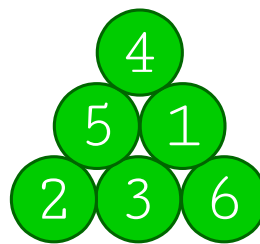
2. Wie müssen die Zahlen platziert werden, damit die Summe in einer Reihe immer gleich groß ist?



Summe = 9




Summe = 10




Summe = 11

3. Wie müssen die restlichen Zahlen platziert werden, damit die Summen jeder waagrecht, senkrechten und diagonalen Reihe gleich groß ist?



Summe = 15



Summe = 15